



৩৫ তম বিসিএস লিখিত পরীক্ষার প্রশ্ন

হুমায়রা সিদ্দিকা হুমাশা-Humaira Siddika Humasha

ড. আবু বকর সিদ্দিক-Dr. Abu Bakkar Siddiq



ড. সিদ্দিক পাবলিকেশন লেখক, গবেষক, শিক্ষক এবং শিক্ষার্থীদের জন্য-জ্ঞান ভান্ডার

বিষয়- মানসিক দক্ষতা

বিষয় কোড- ০০৯

সময়- ১ ঘন্টা

[ডান দিকের সংখ্যা সংশিষ্ট প্রশ্নের পূর্ণমান জ্ঞাপক]

পূর্ণমান- ৫০

১. কোনটি শুদ্ধ বানান?

ক. ইন্দ্রীয়

খ. ঈন্দ্রীয়

গ. ইন্দ্রিয়

ঘ. ঈন্দ্রিয়

২. নিচের কোন শব্দটি 'কপাল' এর সমার্থক?

ক. কপোল

খ. ললাট

গ. মস্তক

ঘ. কাপলিক

৩. নিচের ধারার পরবর্তী অক্ষরটি কি হবে?

অ, ই, উ, ঋ, ?

ক. এ

খ. ঐ

গ. ও

ঘ. ঔ

৪. নিরবধি : অবিরাম :: নিখিল : ?

ক. অশনি

খ. অনিল

গ. অখিল

ঘ. অশান্ত

৫. একজন মহিলা একজন পুরুষকে ইঙ্গিত করে বললেন, ঐ পুরুষের পিতা হলেন আমার স্বশুর। পুরুষটির সাথে মহিলার সম্পর্ক কি?

ক. পিতা

খ. পুত্র

গ. জামাই

ঘ. স্বামী

৬. ঘ-এর মাতা গ। ঘ-গ এর কন্যা নয়। অতএব, ঘ ও গ এর মধ্যকার সম্পর্ক কী?

ক. ঘ, গ-এর ছেলে

খ. ঘ ও গ ভাই

গ. ঘ, গ-এর দাদা

ঘ. কোনো সম্পর্ক নেই

৭. Influenza : Virus :: Typhoid : ?

ক. Bacillus

খ. Parasite

গ. Protozoa

ঘ. Bacteria

৮. Cobbler : Leather :: Carpenter : ?

ক. Furniture

খ. Wood

গ. Hammer

ঘ. Chair

৯. দাঁড় বেয়ে একটি নৌকা শ্রোতের অনুকূলে ঘণ্টায় যায় ১৫ কি.মি. এবং শ্রোতের প্রতিকূলে যায় ঘণ্টায় ৫ কি.মি.। শ্রোতের বেগ নির্ণয় করুন।

ক. ঘণ্টায় ১০ কি.মি.

খ. ঘণ্টায় ৭ কি.মি.

গ. ঘণ্টায় ৪ কি.মি.

ঘ. ঘণ্টায় ৫ কি.মি.

১০. দুইটি নল দ্বারা একটি চৌবাচ্চা যথাক্রমে ১০ ও ১৫ ঘণ্টায় পূর্ণ হয়। নল দুইটি একত্রে খোলা রাখলে চৌবাচ্চাটি কতক্ষণে পানি দ্বারা পূর্ণ হবে?

ক. ২ ঘণ্টায়

খ. ৫ ঘণ্টায়

গ. ৪ ঘণ্টায়

ঘ. ৬ ঘণ্টায়

১১. ঘড়িতে এখন ৮টা বাজে ঘণ্টার কাঁটা ও মিনিটের কাঁটার মধ্যকার কোণটি হলো-

ক. 150°

খ. 220°

গ. 60°

ঘ. 120°

১২. They gave me a form and told me to _____

ক. fill

খ. fell into

গ. fill into

ঘ. fill in

১৩. I could not sleep _____ very tired.

ক. although I was

খ. despite I was

গ. in spite of

ঘ. despite of being

১৪. সত্যি কথা বললে অনেকেরই _____ লাগে।

ক. খারাপ

খ. আঁতে ঘা

গ. ভালো

ঘ. একচোখা

১৫. অঙ্কটার বিসমিল্লায়ই গলদ, এখন _____ করা ছাড়া উপায় নেই।

ক. খোদার খাসি

খ. বিদায় করা

গ. একাদশে বৃহস্পতি

ঘ. কেঁচে গণ্ডুস

১৬. “প্রিয়ংবদা যথার্থ কহিয়াছে” বাক্যটি একটি _____

ক. অস্তিবাচক বাক্য

খ. নেতিবাচক বাক্য

গ. সমবাচক বাক্য

ঘ. কোনটিই নয়

১৭. “এতে দোষ নেই” বাক্যটি একটি _____ বাক্য।

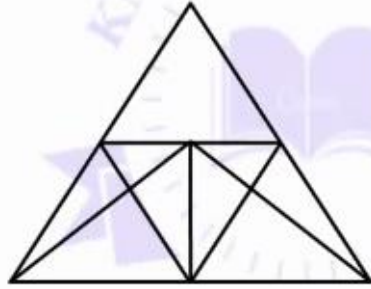
ক. নেতিবাচক বাক্য

খ. অসম্ভব বাক্য

গ. অসম বাক্য

ঘ. অন্বেষণ বাক্য

১৮. নিচের চিত্রে মোট কয়টি ত্রিভুজ আছে?



ক. ১৭

২০২০ খ. ১৮

গ. ২০

ঘ. ২১

১৯. নিচের চিত্রে কয়টি আয়তক্ষেত্র ও বর্গক্ষেত্র আছে?



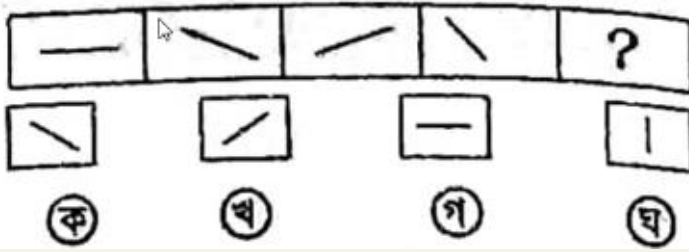
ক. ২ ও ৪

২০২০ খ. ৪ ও ৫

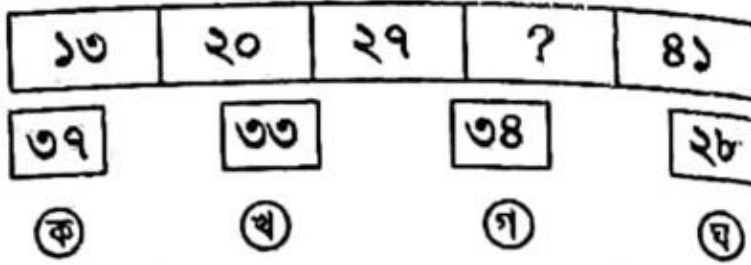
গ. ২ ও ৫

ঘ. ৫ ও ৩

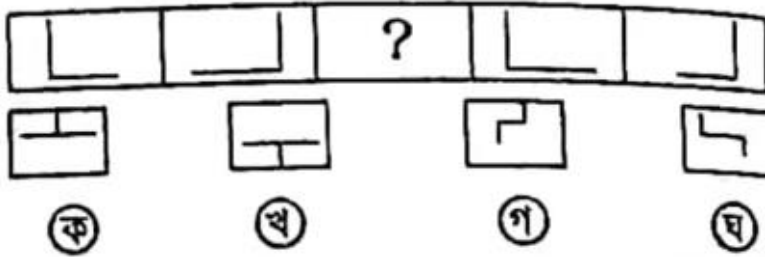
২০. প্রদত্ত চিত্র দ্বারা শূন্যঘর পূরণ করুন:



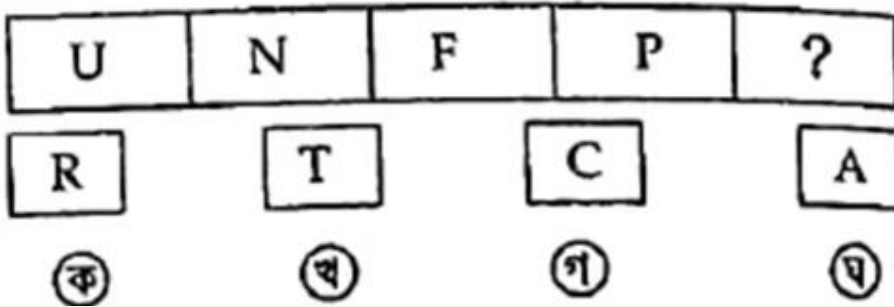
২১. শূন্যস্থানে কোন সংখ্যাটি বসবে?



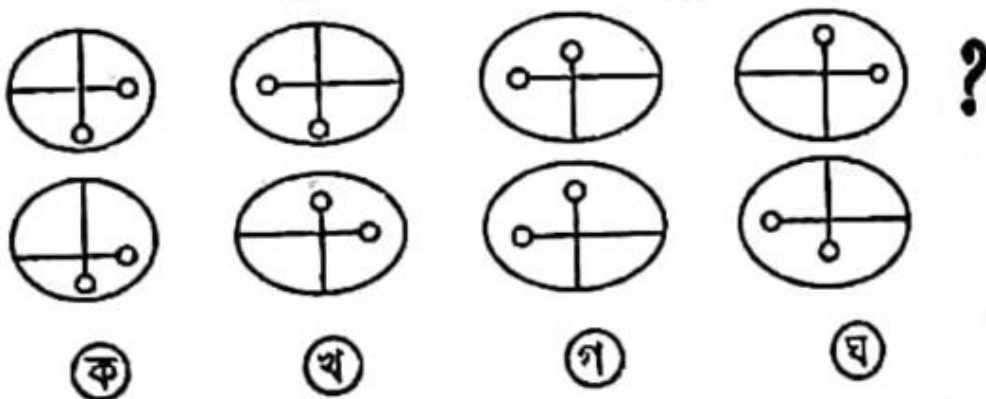
২২. প্রদত্ত চিত্র দ্বারা শূন্যঘর পূরণ করুন:



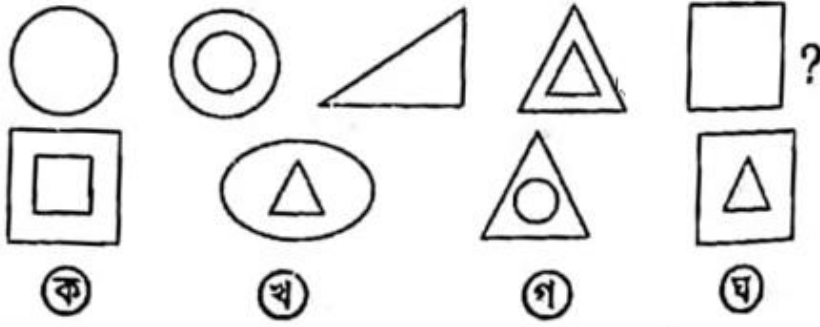
২৩.



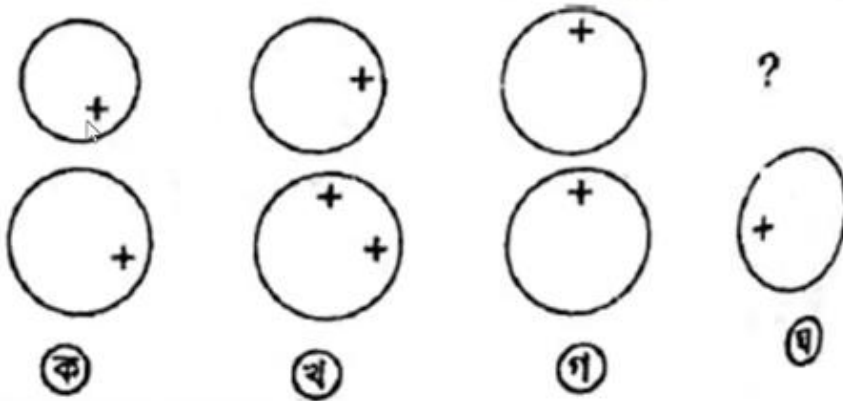
২৪. Problem pattern এর শূন্যস্থানে Answer pattern এর কোন চিত্রটি বসবে? Problem pattern -



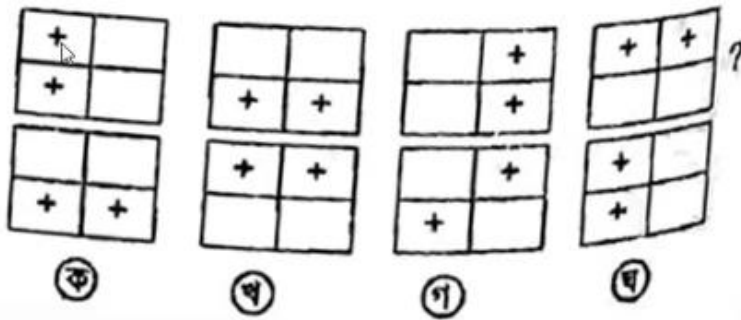
২৫. Problem pattern এর শূন্যস্থানে Answer pattern এর কোন চিত্রটি বসবে?



২৬. Problem pattern এর শূন্যস্থানে Answer pattern এর কোন চিত্রটি বসবে?



২৭. Problem pattern এর শূন্যস্থানে Answer pattern এর কোন চিত্রটি বসবে?



২৮. কোন সংখ্যাটি নিচের প্রশ্নবোধক চিহ্নিত স্থানে বসবে?

$$\frac{২}{?} = \frac{?}{১৮}$$

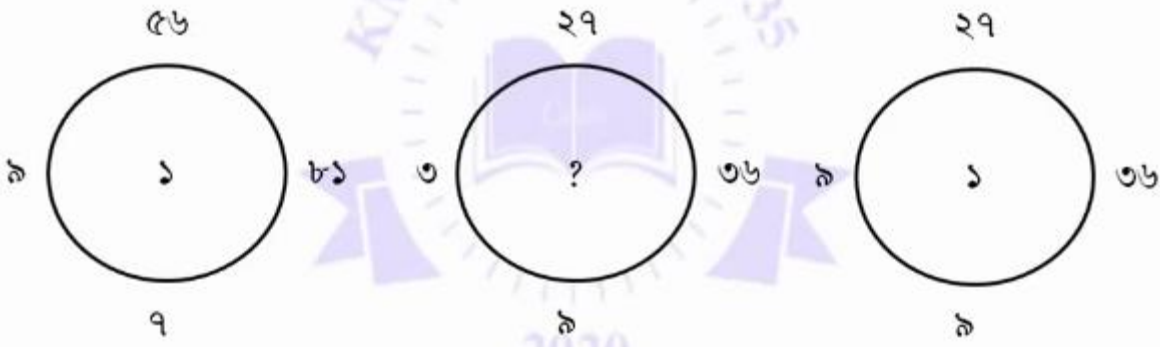
ক. ৩

খ. ৬

গ. ৯

ঘ. ৩৬

২৯. ২য় বৃত্তের মধ্যে সঠিক সংখ্যাটি কত হবে?



ক. ৯

খ. ৩৬

গ. ২৭

ঘ. ৬৫

৩০. শূন্যস্থানে কোন সংখ্যাটি বসবে?

৩	৪.৫	৬	?
৫	৭.৫	১০	১৫

ক. ১২

খ. ৭

গ. ৮

ঘ. ৯

৩১. $\sqrt{১৬৯} = ১৩$ হলে $\sqrt{১২১} = ?$

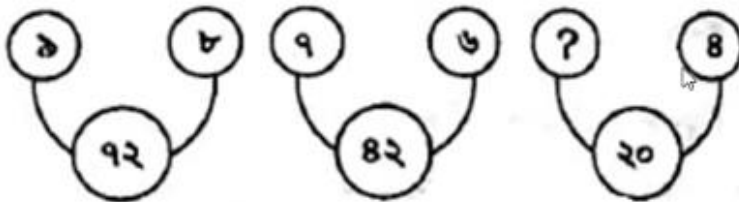
ক. ১৪

খ. ১৬

গ. ১১

ঘ. ১২

৩২. শূন্যস্থানে কোন সংখ্যাটি বসবে?



ক. ৫

খ. ৬

গ. ৭

ঘ. ৪

৩৩. নিচের সিরিজের নবম সংখ্যাটি কত হবে?

০, ৩, ৮, ১৫, ২৪, ৩৫, _____, _____, ?

ক. ৪৮

খ. ৬৩

গ. ৮০

ঘ. ৯৯

৩৪. শূন্যস্থানের সঠিক অঙ্কটি কত হবে?

১	৪	?
৪	২	৫
২	২	৩
৪৯	৬৪	১৬৯

ক. ২

খ. ৩

গ. ৪

ঘ. ৫

৩৫. শূন্যস্থানের সঠিক সংখ্যাটি বসবে?

২	৬
৫৪	১৮

৯	৯
৮১	২৭

ক. ৯

খ. ৩

গ. ৬

ঘ. ১৮

৩৬. টাকায় ৩টি করে আম ক্রয় করে টাকায় ২টি করে বিক্রয় করলে, শতকরা কত লাভ হবে?

ক. ২৫%

খ. ৫০%

গ. ১০০%

ঘ. ৭৫%

৩৭. নিচের নামগুলির কোনটি ভিন্ন ধরনের?

ক. টেনিস

খ. ফুটবল

গ. ক্রিকেট

ঘ. টেবিল টেনিস

৩৮. নিচের জন্তুগুলোর মধ্যে কোনটি ভিন্ন প্রকৃতির প্রাণী?

ঘোড়া, গাধা, জেব্রা, নীল গাই।

ক. নীল গাই

খ. গাধা

গ. ঘোড়া

ঘ. জেব্রা

৩৯. 'Curtail' এর বিপরীতার্থক শব্দ কোনটি?

ক. Detail

খ. Add

গ. Save

ঘ. Cure

৪০. নিচু রাস্তার পাদদেশ থেকে রাস্তার উপরে উঠতে কী করতে হয়?

- ক. সামনে দিকে ঝুঁকতে হয়
 খ. হাঁটু কিছুটা ভাঁজ করতে হয়
 গ. গোড়ালী উচু করতে হয়
 ঘ. সবগুলো

৪১. ব্যতিক্রম চিত্রটি চিহ্নিত করুন।



১

ক. ১



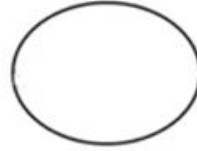
২

খ. ২



৩

গ. ৩



৪

ঘ. ৪

৪২. সঠিক বানানের শব্দটি সনাক্ত করুন:

- ক. Nomphen খ. Nomfen
 গ. Phnompenh ঘ. Pnomphen

৪৩. লেফটেন্যান্ট জেনারেল শব্দের সঠিক বানানটি কী?

- ক. Leiftenant General
 খ. Lieutenant General
 গ. Lieaftenant General
 ঘ. Leaftenant General

৪৪. অতিশয়/সাংঘাতিক কিছু বুঝাতে ব্যবহৃত হয়-

- ক. ভীষণ খ. ভীশন
 গ. ভীষন ঘ. ভিশন

৪৫. নিচের অক্ষরগুলো দিয়ে সঠিক শব্দ কোনটি?

- ত মা জা ই না
 ক. নাতমাইজা খ. জাইনাতমা
 গ. নাতজামাই ঘ. ইমাইজানাত

৪৬. আফ্রিকাকে ইউরোপ থেকে আলাদা করেছে-

- ক. জিব্রাল্টার প্রাণালী খ. পক প্রাণালী
 গ. সার্কাস প্রাণালী ঘ. পানামা প্রাণালী

৪৭. ঘড়ির কাঁটা স্বাভাবিকের তুলনায় দ্রুত চললে বুঝাবে-

ক. সময় দ্রুত চলছে

খ. সময় আস্তে চলছে

গ. সময় ঠিকমত চলছে

ঘ. কোনটিই নয়

৪৮. কোনো যান্ত্রিক গিয়ারের চাকা ছোট হলে বড়টির চেয়ে (সংযুক্ত অবস্থায়) - ঘুরবে?

ক. আস্তে চলবে

খ. একইভাবে চলবে

গ. জোরে চলবে

ঘ. এর কোনোটিই নয়

৪৯. পৃথিবীর মাধ্যাকর্ষণ শক্তি কোথায় শূন্য মানের হয়?

ক. উত্তর মেরুতে

খ. দক্ষিণ মেরুতে

গ. কেন্দ্রে

ঘ. কোথাও নয়

৫০. UNFARE শব্দটি আয়নায় দেখলে তার সঠিক প্রতিবিম্ব হবে-

ক. UNFARE

খ. UNFARE

গ. UNFARE

ঘ. UNFARE